

Zoru Sevenlere

SORU BANKASI

OFF-ROAD
SERİSİ

6. SINIF



Türkçe
Matematik
Fen Bilimleri
Sosyal Bilgiler
Din Kültürü ve Ahlak Bilgisi
İngilizce

PISA - TIMMS
Sözel Yetenek
Sayısal Yetenek
Muhakeme - Akıl Yürütme
Grafik - Tablo Okuma
Görsel Yorumlama

SON VİRAJ
YAYINLARI

ZORU SEVENLERE

SORU BANKASI

OFF-ROAD
SERİSİ

6. SINIF

Ümit KILIÇ



SOSYAL BİLGİLER

PISA - TIMSS

Sözel Yetenek

Muhakeme - Akıl Yürütme

Grafik - Tablo Okuma

Görsel Yorumlama

SON VİRAJ
YAYINLARI

105
SORU

» ÖN SÖZ «

Sevgili Öğrenciler,

Son Viraj Yayınları olarak hedefi yüksek olan öğrencilere rehber olmak ve onların başarı seviyesini yükseltmek için yola çıktık. Değişen sınav sistemiyle birlikte ortaya çıkan yeni nesil sorularla kitaplarımızı oluşturarak sizleri bu sınavlara en iyi şekilde hazırlamayı istiyoruz.

Kitaplarımızı hazırlarken Talim ve Terbiye Kurulu Başkanlığı tarafından yayımlanan öğretim programlarındaki kazanımları esas alıyoruz. Soruları bu kazanımlar çerçevesinde hazırlıyor, tüm kazanımlara kitaplarımızda yer veriyoruz. Bunu yaparken kazanım dışına asla çıkmıyoruz. Testleri mantık, muhakeme, analiz, sentez gerektiren sorularla oluşturuyoruz. Yeni nesil olarak adlandırılan bu tip sorularla öğrencilerimizin analitik düşünerek bilgilerini günlük hayata aktarabilmelerini amaçlıyoruz. Sorular hazırlanırken PISA ve TIMSS sorularını örnek alıyoruz.

Bloom taksonomisine uygun olarak “tam öğrenme” modeliyle hazırladığımız özet konu anlatım, uygulama, kavrama, analiz-sentez, ünite değerlendirme testi ve analiziyle oluşturduğumuz “Drift Serisi” öğrencilerimizi bilgi düzeyinden sentez düzeyine çıkarıyor. Kolaydan zora şeklinde hazırlanan bu testler sayesinde başarı basamaklarını kolaylıkla aşacağınızı düşünüyoruz.

Son Viraj Yayınları olarak bu sınavda en iyi dereceyi elde etmeniz için **OFF-ROAD** adlı ürünle karşınıza çıkıyoruz. Eserimizdeki testler ünite değerlendirme sınavı tarzında hazırlanmıştır. Bu sayede ünitelerin her bir kazanımına yer verilmiştir. Soruların tamamı MEB’in yayınladığı örnek sorulara ve LGS sorularına göre hazırlanmıştır.

Son Viraj Yayınları ile çıktığınız bu yolculukta hedefinize ulaşmanızı diliyor, size bu yolda rehberlik yapmaktan onur duyuyoruz.

Selim AKGÜL
Genel Yayın Yönetmeni

» İÇİNDEKİLER «

SOSYAL BİLGİLER

1. ÜNİTE	: Birey ve Toplum	3
2. ÜNİTE	: Kültür ve Miras	6
3. ÜNİTE	: İnsanlar, Yerler ve Çevreler.....	12
4. ÜNİTE	: Bilim, Teknoloji ve Toplum	17
5. ÜNİTE	: Üretim, Dağıtım ve Tüketim.....	20
6. ÜNİTE	: Etkin Vatandaşlık.....	25
7. ÜNİTE	: Küresel Bağlantılar	28
Cevap Anahtarı.....		31



1. Aylin Hanım tıp fakültesini bitirdikten sonra çalışmaya hemen başlamadı. Önce üniversitede tanıştığı Miraç Bey ile evlendi. Kısa süre sonra dünyaya gelen Gamze isimli kız çocuklarının bakımını kendisi üstlenerek onun büyümesini bekledi. Gamze'nin büyümesi ile birlikte özel bir tıp merkezine başvuruda bulundu. Kısa bir süre sonra onu arayanlar tıp merkezinde çalışabileceğini söylediler. Aylin Hanım beş yıldır bu tıp merkezinde çalışıyor.

Aşağıdaki rollerden hangisi Aylin Hanım'ın zaman içinde üstlendiği roller arasında yer almaz?

- A) Yönetici
B) Öğrenci
C) Doktor
D) Anne

2. Toplumsal yaşamda üzerimize düşen görevlere rol denir. Rollerimizin gerektirdiği sorumluluklar bulunmaktadır. Bu sorumlulukları yerine getirmemiz sorunlarla karşılaşmamıza neden olur. Kişi farklı rollerin sahibi olabilir ayrıca bu rolleri zaman içerisinde çeşitlenebilir ve değişebilir. Rollerimizle ilgili sorumluluklar ya da görevler zaman zaman karışabilmektedir. Bu durumda ise rol çatışması denilen durumla karşılaşırız.

Paragrafta verilenlere bakılarak aşağıdaki seçeneklerden hangisindeki bilginin roller ile ilgili bir durum olmadığı söylenebilir?

- A) Ali, futbol takımında kaptanlığa seçilen başarılı bir öğrencidir.
B) Mustafa Bey bu gün spor yapmaya erken başladı.
C) Suç işleyen oğlunu, hakim olan babası affetti.
D) Okul Müdürü, okulda düzeni ve disiplini sağladı.

3. Kültür, insanlığın ortak mirasıdır. Her millet; dil, kültür, tarih mirasıyla dünyada yerini alır. Bireylerin kökleşmesini ve toplumsallaşmasını sağlayan kültür mirasları geçmişin tanıklarındır, bu yönleriyle geleceğin şekillenmesinde etkilendirler. Dil, kültürün bir unsuru olarak toplumsal yaşamda birlikteliği pekiştirici, dayanışmayı artırıcı bir işlev üstlenir, halkın kendi kültürüne yabancılaşmasını önler. Çeşitli etkiler nedeniyle sürekli yeni yaşam koşulları ortaya çıktığından, toplumlar ve kültürler de sürekli bir değişim içindedirler. Bir milletin kültürü, o milletin bir arada yaşamasını, birlik ve beraberliğini sağlayan en önemli etkidir.

Kültür ile ilgili verilen bilgilere bakılarak aşağıdaki yorumlardan hangisine ulaşılamaz?

- A) Milletler kültürleri ile dünyaya katkı sağlar.
B) Kültürel özellikler değişir ve gelişir.
C) Dil, farklı kültürlerin birbirlerine yabancılaşmasını sağlar.
D) Birlik ve beraberliğin en önemli unsuru kültürdür.

4.



Mirza

Rollerimizin değişmesi görev ve sorumluluklarımızın artmasına neden olur.



Helin

Kişinin doğuştan getirdiği roller hiçbir zaman değişmez.



Melis

Sahip olduğumuz rollerin değişebilmesi için, bulunduğumuz ortamın ve yaşamımızın da değişmesi şarttır.

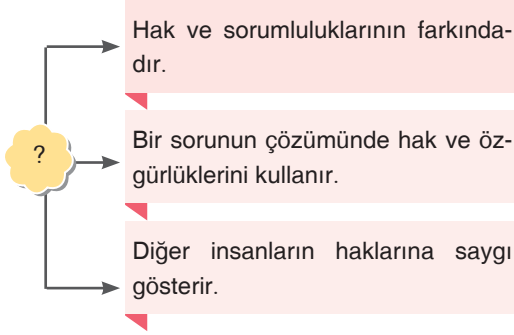
Yukarıda roller ile ilgili bazı bilgiler verilmiştir.

Buna göre yanlış bilgi veren öğrenciler hangi seçenekte verilmiştir?

- A) Yalnız Helin
B) Mirza ve Helin
C) Helin ve Melis
D) Mirza, Helin ve Melis




5.



Verilen şemada soru işareti ile gösterilen yere aşağıdaki başlıklardan hangisi gelmelidir?

- A) Rol ve Sorumluluklarımız
- B) Etkin Vatandaşın Özellikleri
- C) İnsan Haklarına Saygı
- D) Sorunlarımızı Nasıl Çözmeliyiz

6.



Satıcı

Ben bilinçli bir satıcıyım. Tüketicilerimizin haklarını korumak için elimden geleni yapmaktayım. Ürünlerimi sattıktan sonra ----

Satıcının konuşması hangi seçenekteki cümle ile devam ettirilemez?

- A) sattığım ürünün bozuk olması durumunda onu sağlam olanıyla değiştiririm.
- B) fatura vermeyi kesinlikle unutmam.
- C) bozuk çıkması durumunda tüketiciyi ürünü iade etmemesi konusunda uyarırım.
- D) ürünün hatalı olması durumunda ürünü iade alırım.

Son Viraj

7.

Türk toplumu tarih içerisinde farklı devletler kurmuş ve farklı coğrafyalarda varlığını sürdürmeye devam etmiştir. Türk diye nitelendirilen toplulukların tek bir kültür çevresinde varlığını sürdürdüğünü ifade etmek pek doğru bir yaklaşım olmayabilir. Tarih içerisinde yaşamış her toplum için aynı şey söz konusudur. Her topluluk yaşadığı çevrede kendisine göre güçlü olan toplumların etkisinde kalır.

Parçadaki bilgilere bakılarak Türk kültürü ile ilgili aşağıdaki yorumlardan hangisine ulaşılabılır?

- A) Varlığını sürdürmekte zorlanmaktadır.
- B) Başka kültürlerin etkisinde kalmaktadır.
- C) Diğer kültürlerle kültürel çatışma yaşamaktadır.
- D) Kendi kültürünü korumuş ve değişime uğramamıştır.

8.

- I. İnsanlar, aralarında dil, din ırk, renk farklılıkları bulunduğu için bir arada yaşayamazlar.
- II. Farklı milletler birbirleri ile yaşayabilmektedirler.
- III. Farklı milletlerin bir arada yaşaması bazı durumlarda engellenebilir.

Yukarıdaki ifadelerden hangileri toplumsal birlik ve beraberliğin sağlanmasını engellemektedir?

- A) Yalnız I.
- B) I ve II.
- C) I ve III.
- D) II ve III.

9. Suriye'deki iç savaş milyonlarca göçmenin ülkemize göç etmesine sebep olmuştur. Ülkemiz bu göçmenlerin sorunlarını çözmeye çalışmaktadır. Kendilerini gelişmiş olarak gören bir çok Avrupalı devlet sadece birkaç bin göçmeni ülkelerine alırken Türkiye milyonlarca ifade edilen göçmeni kendi ülkesinde misafir etmeye çalışmaktadır. Birçok dernek, vakıf ve sivil toplum örgütü göçmenlerin ihtiyaçlarını karşılamak için yardım kampanyaları yürütmektedir.

Verilen bilgilere bakılarak,

- I. Türkiye, yardımlaşma konusunda birçok ülkeye göre öncüdür.
- II. Türkiye birçok Avrupa ülkesinden daha gelişmiş bir ülkedir.
- III. Türkiye'de gönüllü kuruluşlar insanların yardımına koşmaktadır.

yargılarından hangilerine ulaşılabilir?

- A) Yalnız I. B) I ve III.
C) II ve III. D) I, II ve III.

10.

Millî birlik bilinci, insanların birlik ve beraberlik içinde yaşamalarını sağlar. Bu bilincin zayıflamasının nedenlerinin başında, toplumsal ilişkilerde ve aile yapısındaki bağlılık ve dayanışmanın zayıflaması gelir. Millî birlik bilincinin zayıflaması ---- durumunu ortaya çıkarır.

Verilen cümlede boş bırakılan yere aşağıdaki bilgilerden hangisinin gelmesi yanlış olur?

- A) toplumsal çözülme
B) insan haklarının çiğnenmesi
C) birlik ve beraberliğin bozulması
D) örf ve adetlerin korunması

11. Bir kişiyle veya olayla ilgili önceden olumlu veya olumsuz karar vermeye ön yargı denir. Ön yargı insanlar arasındaki iletişimi olumsuz etkilediği gibi birlik ve beraberliği bozucu bir işlev de görebilir.

Buna göre,

- I. Siyahi insanlar genellikle kanunlara uymazlar.
- II. Kadınlar iyi araç kullanamazlar.
- III. Kıyafetlerini temiz ve özenli giyen insanlar güvenilirlerdir.

yargılarından hangileri ön yargıya örnek gösterilebilir?

- A) I ve II. B) I ve III.
C) II ve III. D) I, II ve III.

12. • Ülkemizde yaşayan, başta gençler olmak üzere tüm halkı alkol, sigara, uyuşturucu, kumar gibi kötü alışkanlıklardan koruyan, kurtaran ve bunlara karşı eğiten bir kurumdur.
- Bu kötü alışkanlıklarla mücadele eden herkese yardımcı olmaktadır. Okullarda kurulan kulüpler ile de faaliyetlerini sürdürür.
- Bu kuruma, gönüllü olarak insanlara yardım etmek ve devletin refahı için çalışmak isteyen herkes başvurabilir.

Bir sosyal yardım kuruluşu olan Yeşilay hakkında verilen bilgilere bakılarak bu kurum hakkında aşağıdakilerden hangisi söylenmez?

- A) Yeşilay'a katılmak için gönüllü olmak gerekir.
B) Kötü alışkanlıklarla mücadele eden tek kuruluştur.
C) İnsanların sağlıklı hayat sürmelerini hedeflemektedir.
D) Önemli sosyal yardım kuruluşları arasında yer almaktadır.

1. İlk Türk devletlerinden biri olan Hun Devleti'nin yaşadığı bölgelerde yapılan kazılarda çeşitli tohum kalıntıları, demir sabanlar ve el değirmenleri bulunmuştur.

Bu bilgiler ışığında Hunların;

- I. madencilik,
II. tarım,
III. el işlemeciliği

gibi alanların hangilerinde faaliyet gösterdikleri söylenebilir?

- A) Yalnız I. B) I ve II.
C) II ve III. D) I, II ve III.

2.

Orhun yazıtları, Türklerin bilinen ilk alfabesi olan Orhun alfabesi ile Kök Türkler tarafından yazılmış yazıtlardır. Kül Tigin adına dikilmiş anıtın doğu yüzünde şu ifadeler yer verilmiştir: "Akılsız hakanlar tahta oturmuş şüphesiz, kötü hakanlar tahta oturmuş şüphesiz. Kumandanları da akılsız imişler şüphesiz, kötü imişler şüphesiz. Beyleri, halkı itaatkar olmadığı için, Çin halkı hilekar ve sahtekar olduğu için, beylerle halkı karşılıklı kışkırttığı için, Türk halkı kurduğu devleti elden çıkarıvermiş."

Bu bilgilere bakılarak Orhun yazıtları ile ilgili aşağıdaki bilgilerden hangisine ulaşılamaz?

- A) Türk milletine ders veren bir niteliğe sahiptir.
B) Devlet adamlarının kabiliyetlerinden ilk olarak bu yazıtlarda bahsedilmektedir.
C) Türk kültürünün ilk yazılı örneği sayılmaktadır.
D) Çinlilerin bazı özelliklerini anlatarak Türk halkını uyarmaktadır.

3. 1970 yılında Kazakistan'daki Issık Göl'ü yakınlarında bir kurgan keşfedilmiştir. Issık Kurganı adı verilen bu mezarda birçoğu altın olan eşyalar bulunmuştur. En göz alıcı eşya altından yapılmış bir elbisedir. Çizmesinden başlığına, kemerinden kılıcına kadar her şeyi saf altındandır. Başlığı ok ve tuğlarla süslü, alın hizasında koç, geyik ve at kabartmaları vardır. Bu kabartmalara kama kılıfı ve öteki eşyalar da rastlanmıştır. Ceketin altındaki düz pantolonun paçaları çizmenin içine girmektedir. Ceket, yüzlerce üçgen altının birleştirilmesinden meydana gelmiştir. Çorabın çizme ile diz kemiği arasında kalan kısmında yine üçgen parçalar, çizmede ise dörtgen parçalar vardır. Fakat, Altın Elbiseli Adam'ın mezarında bulunan en değerli şey ne bu altınlardır, ne de diğer eşyalar. Bu mezarda bulunan en değerli tarihî belge, yarısı kırık bir kabın üzerindeki 26 harflik iki satır yazıdır. Bu yazı, tarih ilmîne, özellikle Türk tarihi ve medeniyetine ışık tutan, yeni boyutlar kazandıran bir belgedir. Bu yazıda "tigin 23'ünde öldü. Esik halkının başı sağ olsun." denilmektedir.

Paragrafta anlatılanlara bakılarak Türklerin yaşantıları ile ilgili aşağıdaki çıkarımlardan hangisi yapılamaz?

- A) Türk tarihine ışık tutan yazılı eserler bırakmışlardır.
B) Maden işlemeciliği konusunda kendilerini geliştirmişlerdir.
C) Savaşçı özelliklerini sanat eserlerine de yansıtmışlardır.
D) Heykel yapımında aynı dönemde yaşayan bir çok milletten daha ileri düzeydedirler.

4. İlk Türk devletlerinde çocuklar küçük yaştan itibaren ata binme ve ok atma gibi savaşçılık özelliklerini kazanırlar ve büyüdüklerinde Türk ordusunun doğal üyeleri olurlardı. Türklerde düzenli ve hazır bir ordu bulunmaz, eli silah tutan herkes asker sayılırdı.

Bu durum Türkler ile ilgili aşağıdaki bilgilerden hangisinin kanıtı olabilir?

- A) Göçebe bir hayat sürdüklerinin
B) Ordu millet anlayışına sahip olduklarının
C) Savaşlarda sürekli üstün geldiklerinin
D) Orta Asya'ya hakim olduklarının

5.

Eski Türklerde ölen kişinin mezarına “balbal” adlı heykeller dikilirdi. Bu heykellerin ölümden sonra o kişiye hizmet edeceğine inanılırdı. Ayrıca ölen kişinin yanına atını ve silahlarını birlikte gömerlerdi. Ölümünden sonra atın onu taşıyacağını, silahlarıyla ise büyük zaferler kazanacağını düşünülürdü. Ölen kişinin arkasından “yuğ” denilen törenler yapılırdı.

Bu bilgilere bakılarak Türkler hakkında;

- I. Birden çok tanrının varlığını kabul etmişlerdir.
- II. Ölümünden sonraki hayatın varlığına inanmışlardır.
- III. Savaşçılık özelliklerini ölümden sonrada devam ettirmek istemişlerdir.

yargılarından hangilerine ulaşamaz?

- | | |
|--------------|----------------|
| A) Yalnız I. | B) Yalnız III. |
| C) I ve II. | D) I ve III. |

6.



Çin zengin bir ülke, bizim yaşadığımız yerler ise fakir. Çin'e at ve bozkır ürünleri satıyoruz. Çinden ise ipek başta olmak üzere tarım ürünleri alıyoruz. Zaman zaman Çin'e hakim oluyoruz. Devletler kurup Çin tarihine yön veriyoruz. Bazen Çinliler de bizim ülkelerimizi ele geçirecek bizi yönetiyorlar.

Kök Türklü tüccarın anlattıklarına göre Türkler ve Çinliler arasında;

- I. ticari,
- II. siyasi,
- III. askerî

faaliyetlerden hangilerinin gerçekleşmekte olduğu söylenebilir?

- | | |
|---------------|------------------|
| A) Yalnız I. | B) I ve II. |
| C) II ve III. | D) I, II ve III. |

7.

İslamiyet öncesi Arap Yarımadası'nda; Araplar kabileler hâlinde yaşıyorlardı. İnsanlar putlara tapıyorlardı. Falcılık ve büyücülük normal karşılanıyor, kadınlar köle gibi alınıp satılıyordu. Zaman zaman kabileler arasında savaşlar yaşıyordu. Ayrıca kafiyeli şiir edebiyatında ilerlemişlerdi. Güzel konuşanlar ve şairler toplumda itibar görüyorlardı.

Verilen bilgilere göre İslamiyet'ten önce Arap Yarımadası'ndaki yaşam ile ilgili aşağıdaki bilgilerden hangisi söylenemez ?

- A) Çok tanrılı inanç bulunmaktadır.
- B) İnsanlar arasında ayrımcılık yapılmaktadır.
- C) Siyasi birlik yoktur.
- D) Şiir ve edebiyat alanında diğer kültürleri etkilemişlerdir.

8.

... sonra Mani dinini kabul ettiler. Mani dinine göre hayvansal gıdaların tüketilmesi yasaktı. Uygurlar bitkisel gıda tüketmek için toprağı ekip biçmeye başladılar. Bu yüzden Uygurlar, yerleşik hayata alışmış ve savaşçı özelliklerini yitirmeye başlamışlardır. Uygurlar, Mani dinini öğrendikleri Soğduların alfabelerini alarak geliştirmişlerdir. Bu yeni yazı sayesinde millî bir edebiyat oluşturmuşlardır. Uygurlar bu dönemde edebiyatta, sanatta ve medeniyet alanında çok önemli eserler vermişlerdir. Hatta kendilerinden sonra gelen pek çok devlete örnek olmuşlardır.

Verilen bilgilere bakılarak Uygurlar ile ilgili aşağıdaki bilgilerden hangisine ulaşılabılır?

- A) Dini inançları askerî, sosyal ve sanatsal özelliklerini etkilemiştir.
- B) Gök Tanrı inancını terk etmeleri ile daha da güçlenmişlerdir.
- C) Askerlik yeteneklerini kaybetmeleri edebiyatta başarı kazanmalarını sağlamıştır.
- D) İnanıtlıkları din bitkisel gıdaları yasakladığı için savaşçı özellikleri kaybolmuştur.



9. Hz. Muhammed kendisine 610 yılında Hira Mağarası'nda İslam dininin gelmesiyle birlikte İslam'ı önce gizli olarak yaymaya başladı. Müslümanların sayısının artması ile birlikte bu dini açık açık tebliğ etmeye başladı. Bu durum karşısında Mekkeliler telaşa kapıldı. İslamiyet'in yayılması hâlinde köleliğin biteceğini, kutsal saydıkları Kabe'deki putlarının kırılacağını, Mekke'ye putları ve Kabe'yi ziyarete gelenlerin artık gelmeyeceğini ve Mekke ticaretinin biterek kazançlarının yok olacağını sandılar. Bu nedenle Müslümanlara baskı yapmaya, hatta onlarla alışverişi kesmeye karar verdiler.

Yukarıda anlatılan durumlar karşısında Mekke'li Müslümanlar hangi önlemleri almışlardır?

- A) Mekke'nin fethine karar verdiler.
B) Mekkelilerle savaşmaya başladılar.
C) Mekke'den Medine'ye hicret ettiler.
D) İslam dinini bırakarak eski dinlerine geri döndüler.
10. Hz. Peygamber Müslüman, Yahudi ve Medineli putperestleri bir araya getirerek Medine Sözleşmesi'ni yaptı.

Medine Sözleşmesi'nin bazı maddeleri şunlardır:

- Müslüman ve Yahudi topluluklar barış içerisinde yaşayacaklardır.
- Medine'nin savunması birlikte yapılacaktır.
- Yahudiler dinlerini yaşamakta serbest olacaktır. Müslümanlar ve Yahudiler, kendileri dışında bir topluluk ile yaşanacak anlaşmazlıkta birbirlerinin yanında yer alacaktır.

Buna göre Hz. Muhammed Medine Sözleşmesi'ni yapmakla aşağıdakilerden hangisini amaçlamış olamaz?

- A) İslam dininin hoşgörü dini olduğunu göstermek
B) İslam dininin Yahudiler arasında yayılmasını sağlamak
C) Medine'de birlik ve beraberliği sağlamak
D) Farklı milletlerin bir arada barış içerisinde yaşayabileceğini göstermek

11. "Ey insanlar!

Kadınların haklarına riayet etmenizi ve bu hususta Allah'tan korkmanızı tavsiye ederim. Dikkat edin! Sizin kadınlar üzerinde hakkınız olduğu gibi onların da sizin üzerinizde hakları vardır. Kadınlar hususunda Allah'tan korkun ve onlara en iyi şekilde davranın. Arap'ın Arap olmayana, Arap olmayanın Arap'a, beyazın siyaha, siyahın da beyaza hiçbir üstünlüğü yoktur. Allah katında üstünlük ancak takva iledir. Biliniz ki mallarınız da canlarınız da aynı şekilde dokunulmazdır."

Hz. Muhammed'in Veda Hutbesi'nde bahsettiği konular onun;

- I. eşitlik,
II. kişi dokunulmazlığı,
III. kadın hakları

düşüncelerinden hangilerini savunduğunu göstermektedir?

- A) I ve II. B) I ve III.
C) II ve III. D) I, II ve III.

- 12.



Verilen diyagramda soru işareti ile gösterilen yere aşağıdaki bilgilerden hangisi getirilemez?

- A) Müslümanlar ve Mekkeliler arasında savaşlar başladı.
B) İslamiyet'in farklı bölgelere yayılmasına imkan sağlandı.
C) Müslümanlar arasında ilk anlaşmazlıklar başladı.
D) Medine'de İslam Devleti kuruldu.

1.

Hz. Ebubekir Dönemi'nde Kur'an-ı Kerim kitap hâlinde getirildi.

Hz. Osman Dönemi'nde Kur'an-ı Kerim çoğaltılarak, Mekke, Kûfe, Basra, Şam, Yemen ve Bahreyn gibi önemli merkezlere gönderilmiştir.

Hz. Ebubekir ve Hz. Osman dönemlerinde gerçekleştirilen bu faaliyetlere bakılarak;

- I. Kur'an-ı Kerim korunmaya çalışılmıştır.
- II. Kur'an-ı Kerim'i ezberleyenlerin sayısı artmıştır.
- III. İslamiyet'in yayılması için faaliyetlerde bulunulmuştur.

yargılarından hangilerine kesin olarak ulaşılabılır?

- | | |
|--------------|------------------|
| A) Yalnız I. | B) Yalnız III. |
| C) I ve III. | D) I, II ve III. |

2.

Muaviye ölmeden önce oğlunu yerine halife tayin etmesi ile İslam Devleti'nin yönetiminde önemli bir değişiklik meydana gelmiştir. Muaviye'nin ölümünden sonra yerine oğlu Yezid geçmiştir.

Buna göre Yezid'in halife olması aşağıdakilerden hangisine sebep olmuştur?

- A) Halifeliğin saltanata dönüşmesine
- B) Savaşların kaybedilmesine
- C) Dört Halife Dönemi'nin sona ermesine
- D) İslam Devleti'nin adının değişmesine

3.

Hz. Muhammed'in ölümünden sonra bazı Arap kabileleri dinden çıkmaya, İslam'ın gereği olan zekat verme ibadetini yerine getirmemeye başladılar. Bazı kimseler ise kendilerini peygamber ilan ederek bozgunculuğa sebep oldular. Hz. Ebubekir'in halife seçilmesiyle birlikte kabilelerle mücadele edildi. Dinden dönenler ve peygamberlik iddiasında bulunanlar cezalandırıldı.

Buna göre yukarıdaki anlatıma bakılarak hangi bilgiye ulaşılamaz?

- A) Hz. Ebubekir dini otoriteyi tekrar sağlamıştır.
- B) İslamiyet'i tam olarak benimsemeyen gruplar bulunmaktadır.
- C) Müslümanlar arasında iç savaşlar başlamıştır.
- D) Dört Halife Dönemi karışıklıklarla başlamıştır.

4.

Türkler Maniheizm dini hakkında olumsuz fikirlere sahiptiler, çünkü et yemenin yasak olduğu bu dinde Türklerin başka yiyecekler bulması mümkün değildi. Et yemeyen toplumun soğuğa dayanması ve diğer faaliyetlerde kendini göstermesi beklenemezdi. Ayrıca Budistler az yerler ve az hareket ederlerdi. Sonuçta savaş hâlinde kuvvetli, dinamik olmak gerekirdi ve Budizm Türklerin savaşçı olmalarını, kuvvetli olmalarını önlerdi. Dolayısıyla ülkede uygulanamazdı. Ancak İslam dini için aynı durum söz konusu olmamış, bu dini kabul etmek istemeyen bazı Türk boyları olsa da bir süre sonra kitleler hâlinde İslam dinine geçmeye başlamışlardır.

Yukarıda anlatılan duruma bakıldığında Türklerin İslam dinini seçmelerinin sebebi hangi seçenekte verilmiştir?

- A) Yaşam tarzlarına uygun olması
- B) İslam ordularının güçlü olması
- C) Çinlilerle yapılan savaşta Müslümanların yanında yer almaları
- D) Abbasi Devleti'nin Türklere yakın davranması



5. Türkler İslamiyet'i kabul ettikten sonra İslamiyet öncesi sahip oldukları kùltür ve geleneklerini büyük ölçüde korumuşlardır. Ayrıca İslamiyet'i yaymışlar ve saldırılara karşı İslam dinini korumuşlardır. Kurdukları medreselerle İslam dinini öğretecek çok sayıda alim yetiştirmişlerdir.

Verilen bu bilgiler aşağıdaki sorulardan hangisinin cevabını içermektedir?

- A) Türklerin Müslüman olma sebepleri nelerdir?
B) İslam dini ve Türklerin eski inancı arasındaki benzerlikler nelerdir?
C) Türklerin İslam dünyasına hizmetleri nelerdir?
D) İslamiyet'i kabullerinden sonra Türklerin korudukları kùltür ve gelenekleri nelerdir?
6. "Türklerin yaşadığı şehirleri, bozkırları dolaştım ve Türk, Türkmen, Oğuz, Çiğil, Yağma, Kırgız lehçelerini öğrendim. Ayrıca bu dili en iyi ve en etkili şekilde konuşanlardan, en eğitimlilerden, soyu en köklü kişilerden öğrendim. Türk boylarının her birinin lehçesini mükemmel olarak öğrendim ve öğrendiklerimi güzelce sıralanmış bir düzen içinde kapsamlı bir kitapta topladım. Arayan, kelimeyi doğru yerde bulsun ve dileyen onu bir düzen içinde görebilsin diye kitabı alfabetik sıraya göre düzenledim. Düz yazı ve dizelerle, atasözleriyle, hikmetli sözlerle ve zarif bir dille donattım. Pürüzlü yerlerini düzelttim, çukurlarını ve kuyularını doldurdum, tek tek her kelimeyi uygun olduğu yere koyarak ve onları belirsizlikten kurtararak kitabın üzerinde yıllarca çalıştım."
(Kaşgarlı Mahmut Divanü Lugati-t Türk)

Verilen paragrafa göre Divanü- Lugati-t Türk'ü yazan Kaşgarlı Mahmut hakkında hangi bilgiye ulaşamaz?

- A) Türk kùltürünü en iyi şekilde tanımaya çalışmıştır.
B) Türk dili hakkında öğrenilebilecek her şeyi en iyi şekilde öğrenmiştir.
C) Yazdığı kitabı tüm Türk devletleri kullanmıştır.
D) Meydana getirdiği eseri eksiksiz yapmaya çalışmıştır.

7. I. Hükümdarları ilk defa "Sultan" ünvanını kullanmıştır.
II. Türkçeyi resmi dil ilan eden Türk devletidir.
III. Halife'yi koruduğu için hükümdarlarına "Doğunun ve Batının Sultanı" ünvanı verilmiştir.

Verilen bilgiler ile ilgili olduğu Türk devleti hangi seçenekte doğru şekilde eşleştirilmiştir?

	I	II	III
A)	Karahanlılar	Gazneliler	Büyük Selçuklular
B)	Gazneliler	Karahanlılar	Büyük Selçuklular
C)	Büyük Selçuklular	Gazneliler	Karahanlılar
D)	Karahanlılar	Büyük Selçuklular	Gazneliler

8. Gazneli Mahmut'un sarayında 400'ü aşkın bilgin, yazar ve sanatçı vardı. Onlardan biri de dönemin önemli bilginlerden Biruni idi. Onun için Gazneli Mahmut "Sarayımın, en değerli hazinesi" demiştir. Biruni tarih, tıp, coğrafya, astronomi, matematik, fizik gibi çeşitli bilim dalları ile ilgilenmiştir. Kendisinden çok sonra gelen bilim insanlarına ilham kaynağı olmuştur.

Buna göre Gazneli Mahmut için;

- I. kùltür ve sanat çalışmalarını desteklediği,
II. bilimsel çalışmalar ile ilgilenen bilim adamlarını sarayında bulundurduğu,
III. bilimsel çalışmalar sayesinde ordusunun gücünü arttırdığı

yargılarından hangilerine ulaşılabilir?

- A) Yalnız I. B) I ve II.
C) I ve III. D) I, II ve III.

9. Büyük Selçuklu Devleti ile Bizans arasında yapılan Malazgirt Savaşı'nın Selçuklular tarafından kazanılması ile;

- Türklerin Anadolu'yu yurt edinme süreci başlamıştır.
- Anadolu'nun fethi konusunda Alparslan tarafından komutanlar görevlendirilmiştir.
- Türkleri Anadolu'dan atmak için Bizans'ın yardım isteğiyle Haçlı Seferleri başlamıştır.

Verilen bu bilgilere göre Malazgirt Savaşı ile ilgili aşağıdakilerden hangisine ulaşılabılır?

- A) Anadolu'nun fethi tamamlanmıştır.
- B) Bizans Devleti Anadolu'dan tamamen çıkarılmıştır.
- C) Anadolu'nun Türkleşme süreci başlamıştır.
- D) Haçlı Seferleri nedeniyle Türkler Anadolu'yu terk etmek zorunda kalmışlardır.

10. Malazgirt Savaşı'ndan sonra burada kurulan beylikler,

- Haçlılarla, Ermenilerle ve Gürcülerle mücadele ederek Anadolu'yu koruma görevini de üstlenmişlerdir.
- Anadolu'da han, hamam, kervansaray, medrese gibi mimari eserler yapmışlardır.
- Yaşadıkları bölgelerin Müslümanlaşmasına katkıda bulunmuşlardır.

Buna göre ilk beylikler Anadolu'da;

- I. mimari,
- II. dini,
- III. askerî

alanların hangilerinde faaliyetlerde bulunmuşlardır?

- A) Yalnız I.
- B) I ve II.
- C) I ve III.
- D) I, II ve III.

11. Türklerin Anadolu'da ilerleyişini durduramayan Bizans, Avrupa'dan yardım istemek zorunda kaldı. Bu çağrıya Papa II. Urban karşılık verdi ve Hristiyanlardan oluşan büyük bir ordu kurdu. Bu orduya Haçlı Ordusu adını verdiler. 8 kez düzenlenen bu seferlerin Türk ve dünya tarihi açısından önemli siyasi sonuçları oldu.

Buna göre;

- I. Matbaa, kâğıt, pusula ve barut Avrupa'ya götürüldü.
- II. Anadolu'daki Türk akınları yavaşladı.
- III. Kiliseye olan güven azaldı.
- IV. Merkezî krallıklar güçlendi.
- V. Doğu-batı ticareti gelişti.

yargılarından hangileri Haçlı Seferlerinin bahsedilen sonuçları arasında yer almaktadır?

- A) II. ve III.
- B) II ve IV.
- C) II, III ve IV.
- D) III, IV ve V.

12. İpek Yolu, Çin'in Şian kentinden başlayıp Avrupa'ya kadar uzanan bir yoldur. Doğu ve Batı ülkeleri arasında kültürel alışverişte, geleneklerin, yeniliklerin ve inançların taşınmasında önemli rol oynamıştır. Bu yoldan sadece tüccarlar değil aynı zamanda elçiler, bilim insanları, düşünürler, sanatçılar ve din adamları da geçmiştir. İpek Yolu sadece ipeğin satıldığı bir yol değil yağ, bal, baharat, silah, süs eşyaları, seramik kaplar, yün giysiler, kumaşlar, kuru bakliyat ürünlerinin ticaretinin yapıldığı bir yoldur.

Bu bilgilere göre İpek Yolu'nun aşağıdaki faaliyetlerden hangisine katkı sağladığı söylenebilir?

- A) Kültürel etkileşimin yaşanmasına
- B) Ülkeler arası ekonominin gelişmesine
- C) Devletler arası askerî mücadelelerin başlamasına
- D) Bilimsel bilgilerin yayılmasına

1.

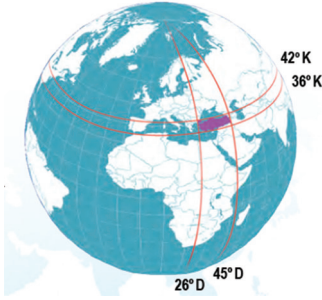
	Paraleller	Meridyenler
I.	180 tane dir.	a. Aralarındaki zaman farkı 4 dk'dır.
II.	Aralarında 111 km mesafe bulunur.	b. Kutuplara doğru boyları kısalır.
III.	Boyları eşittir.	c. Kutuplarda birleşirler.
IV.	En uzun u Ekvatordur.	d. 360 tane dir.

Yukarıdaki tabloda paralel ve meridyenlerin özellikleri eşleştirilirken yanlışlık yapılmıştır.

Hangi ikisi yer değiştirirse tablodaki bilgilerin tamamı doğru olur?

- A) I ve c B) II ve a
C) III ve b D) IV ve d

2.



Ülkemizin dünya üzerindeki yeri yukarıdaki şekilde verilmiştir.

Buna göre ülkemizin konumu ile ilgili aşağıda verilen bilgilerden hangisinde yanlışlık yapılmıştır?

- A) Başlangıç meridyenine göre daha doğudadır.
B) Kuzeyi ve güneyi ile arasında 666 km mesafe vardır.
C) Ekvatora göre daha batıda yer almaktadır.
D) Doğusu ile batısı arasında 76 dakikalık zaman farkı bulunur.

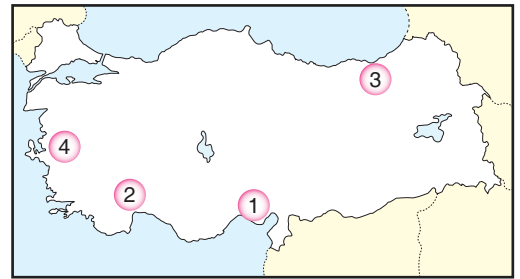
3.



Şemada soru işareti ile gösterilen yere aşağıdaki bilgilerden hangisi gelmelidir?

- A) Türkiye'nin özel konumunun sonuçları
B) Türkiye'nin Ekvator'a göre konumunun sonuçları
C) Türkiye'nin dünya üzerindeki bulunduğu yarım kürenin önemi
D) Türkiye'nin matematik konumunun sonuçları

4.

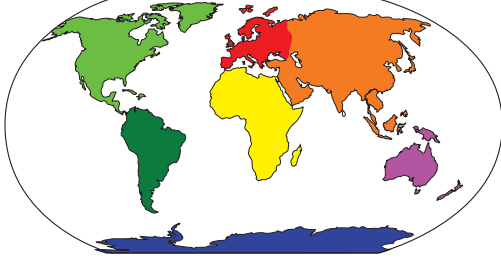


Ülkemizde iklimin ılıman olduğu kışların ise ılık geçtiği ve güneşlenme süresinin fazla olduğu yerlerde seracılık faaliyetleri gelişmiştir.

Buna göre haritada gösterilmiş yerlerden hangisinde seracılık faaliyetinin yapılmasında güçlük yaşanır?

- A) 1 B) 2 C) 3 D) 4

5.



Açık Yeşil	Turuncu	Mavi	Kırmızı
------------	---------	------	---------

1. Asya	2. Avrupa	3. Antarktika	4. Kuzey Amerika
---------	-----------	---------------	------------------

Yukarıda dünya haritasında kıtalar farklı renklerle kıta isimleri ise numaralarla belirtilmiştir.

Buna göre kıtaların numaraları ve renkleri hangi seçenekte doğru şekilde eşleştirilmiştir?

	1	2	3	4
A)	Turuncu	Açık Yeşil	Açık Yeşil	Kırmızı
B)	Turuncu	Kırmızı	Mavi	Açık Yeşil
C)	Mavi	Turuncu	Kırmızı	Açık Yeşil
D)	Turuncu	Kırmızı	Açık Yeşil	Mavi

6. Ülkemizin yükseltisi Asya ve Avrupa kıtalarına göre daha fazladır.

Yükseltisinin bu kıtalardan daha fazla olması ülkemizin;

- I. iklim,
- II. tarım ürünleri,
- III. yer altı kaynakları

özelliklerinden hangileri üzerinde değişikliğe sebep olur?

- A) Yalnız II. B) I ve II.
C) I ve III. D) I, II ve III.

7.

- Çevresine göre yüksek ve belli bir doruğu olan yeryüzü şeklidir.
- Karaların su kütlelerine doğru uzanmış bölümüne denir.
- Çevresine göre yüksekte kalmış ve akarsular tarafından derin olarak yarılmış geniş düzlüklerdir.
- Deniz sularının karaların içine doğru sokulduğu bölümdür.

Yukarıda bazı yeryüzü şekillerinin tanımları verilmiştir.

Buna göre bu tanımlar ile alakası olmayan yeryüzü şekli hangi seçenekte verilmiştir?

- A) İzmir Körfezi B) Ağrı Dağı
C) Sinop Burnu D) Çukurova

8.

- Yıllık sıcaklık ortalaması 25-30°C civarındadır.
- Yıllık sıcaklık farkı çok azdır.
- Yıllık ortalama yağış 2.000 mm üstündedir.
- Her mevsimi yağışlı olduğu için bu bölgenin akarsu rejimleri düzenlidir.

Verilen bilgiler aşağıdaki iklimlerden hangisine aittir?

- A) Kutup iklimi B) Ekvatorial iklim
C) Muson iklimi D) Akdeniz iklimi

9.



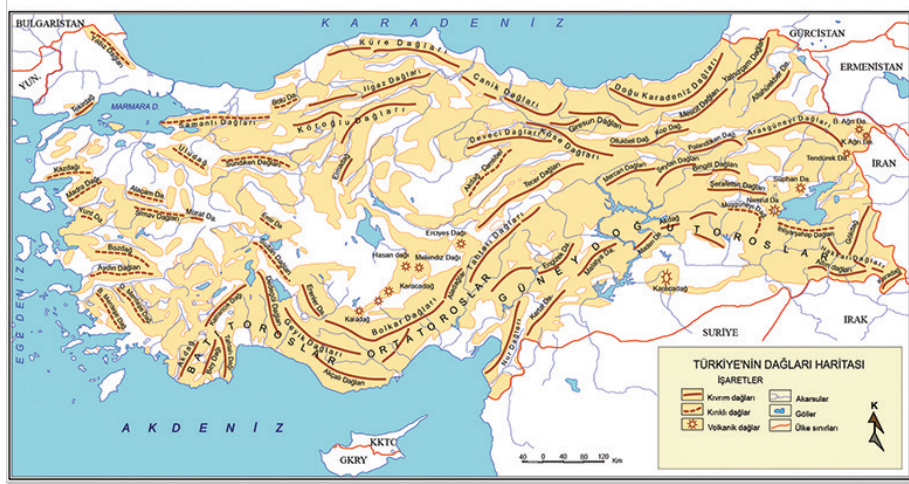
Miraç, yarıyıl tatilini teyzesinin yanında geçirecektir. Gideceği yerde kışların soğuk ve kar yağışlı geçtiğini bilmektedir.

Buna göre Miraç haritada numaralandırılmış bölgelerden hangisine gidecektir?

- A) 1 B) 2 C) 3 D) 4



10.



Ülkemizin dağlarını gösteren haritaya bakılarak aşağıdaki ifadelerden hangisi söylenemez?

- Akdeniz Bölgesi'nde dağlar denize paralel uzanmaktadır.
- Ege Bölgesi'nde denizin etkisi iç kesimlere kadar ilerleyebilmektedir.
- Dağların uzanış yönü nedeniyle Akdeniz İklimi sadece kıyı kesimlerinde görülmektedir.
- Dağlar daha çok Güney Doğu Anadolu Bölgesi'nde yoğunlaşmıştır.

11. İsmail 6-C sınıfı öğrencisidir. Öğretmeni tarafından ona bir ödev verilmiştir. Bu ödevde göre bir iklim tipini araştırması gerekmektedir. İsmail'in araştırdığı iklim tipinde;

- kışların ılık geçtiği,
- yaz aylarının sıcak ve kurak geçtiği,
- kısa boylu bodur ağaç topluluklarının bulunduğu görülmektedir.

Buna göre İsmail'in araştırdığı iklim tipinin görüldüğü bölgeyle ilgili aşağıdakilerden hangisi kesin olarak söylenebilir?

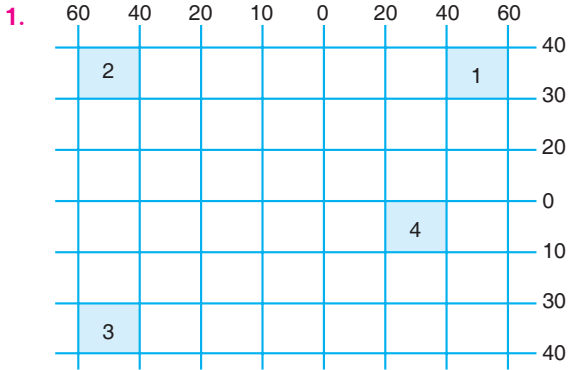
- Yaz aylarında kuraklık isteyen tarım ürünleri yetişebilmektedir.
- Yağışların kar şeklinde düştüğü görülmektedir.
- Yer şekilleri yüksek dağlardan oluşmaktadır.
- Bitki örtüsü baharda yeşeren yazın kuruyan otlardan oluşur.

12. Kutup bölgeleri yıl boyunca güneş ışınlarını eğik açıyla aldığı için hava sıcaklığı sürekli sıfırın altındadır. Yağış şekli kar şeklindedir ve kar yıl boyunca yerden kalkmaz. Kutup iklimi Grönland Adası ve Antarktika kıtasında görülmektedir. Antarktika'da yaşam yoktur ancak Grönland Adası'nda Eskimo adı verilen topluluklar yaşamaktadır. İglo adı verilen yerlerde yaşayıp balıkçılıkla uğraşmaktadırlar.

Bu bilgiler ışığında aşağıdakilerden hangisine ulaşamaz?

- Kutup ikliminde sıcaklığın neden düşük olduğuna
- Yağış şeklinin nasıl olduğuna
- Kutup bölgelerinde yaşayan insanların ekonomik faaliyetlerine
- Kutup ikliminin görüldüğü yerlerde hangi tarım ürünlerinin yetiştirildiğine

Son Viraj



Bir balıkçı teknesi okyanusta balık avlarken yardım sinyali göndererek yardım istiyor ancak sinyal kısa süre sonra kesiliyor. Yardım sinyalini alan bir yük gemisi sinyalin en son olarak 30 Kuzey paraleli, 40 Batı meridyeni ile 40 Kuzey paraleli ve 60 Batı meridyenlerinin arasında kalan bir bölgede olduğunu görüyor.

Buna göre yük gemisinin balıkçı teknesine ulaşabilmesi için kaç numaralı bölgeye doğru hareket etmesi gerekmektedir?

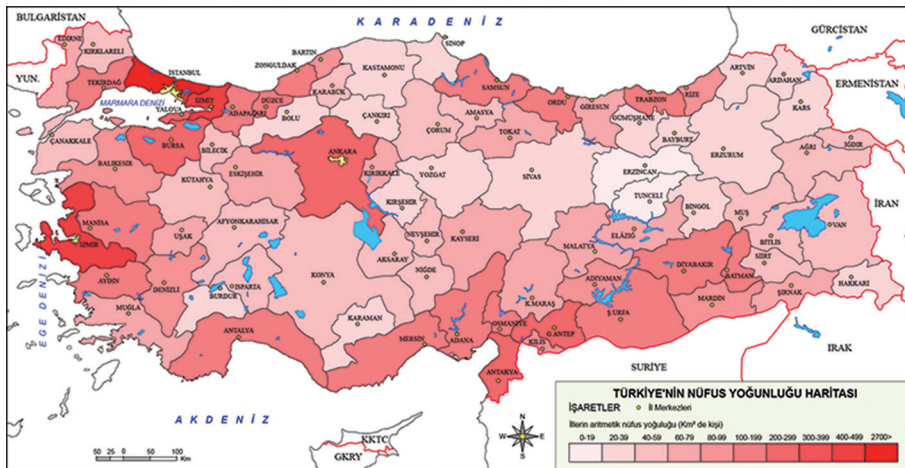
- A) 1 B) 2 C) 3 D) 4

2. Ekvatorial iklimin görüldüğü yerlerde yağışların fazla olması sebebiyle ağaçlar gürdür. Ağaçların fazla olması ise insanların evlerini ahşaptan yapmalarına sebep olmuştur. İnsanlar ihtiyaçlarını tarım, hayvancılık yaparak ve orman ürünlerini satarak gidermektedir. Ağaçlardan elde edilen kereste önemli bir gelir kaynağıdır. Yağış nedeniyle oluşan nehirler insanların ulaşımı kolayca yapmalarını sağlamaktadır. Bölgenin sıcak olması, ayrıca sürekli yağın yağmurlar insanların giysilerini etkilemiştir. Gün içinde genellikle kısa kollu giysiler ve yağmurluklar giyilmektedir.

Paragraftaki bilgilere göre aşağıdaki bilgilerden hangisine ulaşamaz?

- A) Ekvatorial iklimde yağış rejimi düzenlidir.
B) İklim insanların ekonomik faaliyetleri üzerinde etkilidir.
C) İklim insanların karakteristik özelliklerini belirleyen önemli faktördür.
D) İklimin insanlar üzerindeki etkisi bir çok alanda fark edilmektedir.

3.



Türkiye'nin nüfus haritasına bakılarak aşağıdaki çıkarımlardan hangisine ulaşamaz?

- A) Nüfus genellikle kıyı kesimlerde toplanmıştır.
B) Nüfusun dağılışında iklim faktörü etkili olmuştur.
C) Sanayi faaliyetlerinin yoğun yapılması nedeni ile iç kesimlerde nüfus azalmıştır.
D) Doğu Anadolu Bölgesi nüfusun seyrek olduğu bölgelerdendir.